



ЕДИНЕН ПРИЕМЕН ИЗПИТ

1700 София, Студентски град "Христо Ботев", [www.unwe.acad.bg](http://www.unwe.acad.bg)

ТЕСТ  
МОДУЛ 1 + МОДУЛ 2 + МОДУЛ 3 "ИСТОРИЯ НА БЪЛГАРИЯ"

ПРОЧЕТЕТЕ ВНИМАТЕЛНО СЛЕДНИТЕ УКАЗАНИЯ:

Преди началото на изпита получавате книжка с теста, калъфче с две химикалки (тънкописци), линейка и голям плик, в който се намират картата за отговори и малък плик.

**Книжката с теста**

На левите страници са въпросите, на които трябва да отговорите.

Десните страници са празни и там можете да си водите бележки, които ще ви помогнат да намерите верния отговор.

Книжката с теста не е официален документ и няма да бъде проверявана.

**Картата за отговори**

Това е официалният документ за вашия изпит, който се проверява от скенер - затова я попълвайте особено внимателно. Тази карта е уникална за всеки участник в теста и не може да бъде подменена. Отговорите на всички въпроси в картата за отговори имат поредни номера, обозначени с арабски цифри. За всички въпроси са посочени по пет възможни отговора, оградени с кръгчета и обозначени с главни букви от А до Д.

Когато определите верния според вас отговор, маркирайте съответната главна буква с химикалката - тънкописец.

Попълвайте отговорите в кръгчетата като внимавате да **покриете цялата буква и да не излизате извън кръгчето**, което сте избрали за верен отговор – така ще се избегнат грешки при сканирането на вашата карта. Не е позволено изтриване, забелване и всякакви други средства за корекция в картата за отговори. В полетата за отговори е позволено маркиране само вътре в кръгчетата за отговори. Имайте предвид, че не се допуска обжалване и преразглеждане на картата при неправилно маркиране. За всяка грешка и неправилно маркиране отговорността е ваша. Според чл. 46 ал.2 от Правилника за прием на студенти в УНСС «**при неспазване на което и да е изискване от указанията за попълване на теста, работата се анулира**».

10	(А)	(Б)	<input checked="" type="radio"/>	(Г)	(Д)	ПРАВИЛНО МАРКИРАН ОТГОВОР
<i>Всяко друго маркиране е неправилно – скенерът не чете отговора: губят се точки от въпроса или работата се анулира</i>						

Всеки въпрос има само един верен отговор и затова в реда от кръгчета трябва да маркирате само една от посочените главни букви. Маркирането на повече от един отговор ви носи 0 точки, дори единият от тях да е верен.

**Контролната карта**

Тя се намира под перфорацията в долния край на картата за отговори. Попълнете я внимателно. Контролната карта и картата за отговори са единен документ и имат един и същ идентификационен номер – баркод. Това е вашият идентификационен документ, който ще удостовери, че картата за отговори е вашата карта.

**ВНИМАНИЕ!** Размяната на вашата контролна карта с друга карта за отговори и обратното е недопустима, защото води до различна идентификация и **работата ви се анулира**. Проверявайте лично за това!

Запълвайте верните отговори само с предоставените ви тънкописци, които са **черни (проверете това!)** - иначе работата ви също се **анулира**.

**Работата се анулира и когато:** 1. върху баркода е драскано; 2. драскано е върху празните полета между отговорите; 3. е направен опит да се изтрие вече маркиран отговор; 4. картата за отговори е сгъната; 5. повече от еднократно е прегъната контролната карта.

**Успех!**

## МОДУЛ 1 “БЪЛГАРСКИ ЕЗИК И ЕЗИКОВА КУЛТУРА”

1) Изберете правилния вариант за попълване на празните места в изречението.

Дори \_\_\_\_\_, че \_\_\_\_\_ от книгата може да съществува само за сметка на нашия (това е \_\_\_\_\_ на белетристиката), не пречи, без да губим своя личен вътрешен свят, да се просмучем от жизнеността на героите на Дикенс или на Селинджър.

- А) фактът / света / законът
- Б) фактът / светът / законът
- В) факта / света / закона
- Г) факта / светът / законът
- Д) фактът / света / закона

2) Изберете правилния вариант за попълване на празното място в изречението.

В началото на седмицата за \_\_\_\_\_ поредна година, беше публикуван „Индекс на икономическа свобода“, съставян от фондация „Херитидж“.

- А) 12-а
- Б) 12-та
- В) 12-тата
- Г) 12-тата
- Д) Нито един от посочените варианти не е правилен.

3) В следващия текст е допусната една грешка. Посочете коя е погрешната позиция.

Кой не е завиждал поне веднъж(А) на големите писатели! Не за славата, чиято цена ни плаши, нито за привилегиите(Б), които(В) ги приравняват с простосмъртните. А за талантът(Г) им да откриват истината и за смелостта да я защитят. За елегантната им безцеремонност(Д) да заявят като Шоу: „Моят начин да се шегувам е да казвам истината!“

4) Посочете в коя от думите има правописна грешка.

- А) военнопленник
- Б) военачалник
- В) войнственост
- Г) военноинвалид
- Д) войниклък

5) Кое пунктуационно оформяне на изреченията може да породи смислова грешка?

- А) Когато предстояла война, силните феодални владетели събирали край себе си рицари – воители на коне, облечени в тежки военни доспехи.
- Б) Когато предстояла война, силните феодални владетели събирали край себе си рицари (воители на коне, облечени в тежки военни доспехи).
- В) Когато предстояла война, силните феодални владетели събирали край себе си рицари: воители на коне, облечени в тежки военни доспехи.
- Г) Когато предстояла война, силните феодални владетели събирали край себе си рицари, воители на коне, облечени в тежки военни доспехи.
- Д) Когато предстояла война, силните феодални владетели събирали край себе си рицари – воители на коне – облечени в тежки военни доспехи.

6) С коя от изброените думи е най-подходящо да се замени подчертаната дума, така че смисълът на изречението да се запази?

*Пустинните бури осуетиха провеждането на традиционното рали.*

- А) попречиха
- Б) възпрепятстваха
- В) отклониха
- Г) сковаха
- Д) отхвърлиха

7) Изберете правилния вариант за попълване на празното място в изречението.

*Има и циганска техника за закаляване на нож в домашни условия. Нагрява се до \_\_\_\_\_ цвят, калява се в \_\_\_\_\_ разтвор с повече масло.*

- А) светлочервен / маслено-воден
- Б) светло червен / маслено-воден
- В) светло-червен / маслено воден
- Г) светлочервен / масленоводен
- Д) светло червен / маслено воден

8) Изберете правилния вариант за попълване на празните места в изречението.

*Секцията утвърди като основна форма за научен диалог ежегоден \_\_\_\_\_, на който се обсъждат същностни за литературното развитие проблеми на \_\_\_\_\_.*

- А) Колегиум по Възрожденска литература / Българското Възраждане
- Б) Колегиум по възрожденска литература / Българското възраждане
- В) Колегиум по възрожденска литература / българското Възраждане
- Г) Колегиум по Възрожденска литература / българското Възраждане
- Д) Колегиум по Възрожденска Литература / Българското Възраждане

9) В кой ред има графична грешка?

- А) Декан на факултета е доц. Петров.
- Б) Купих от селото 5 л. домашно вино.
- В) Столица на Албания е гр. Тирана.
- Г) Всеки ден взема по 500 мг от лекарството.
- Д) Днес ще се обсъждат учебниците за 9. клас.

10) Изберете правилния вариант за следващото заглавие от „Дарик онлайн“.

- А) Сватбени камбани бият за Фърги и актьорът Джош Дюамел
- Б) Сватбени канбани бият за Фърги и актьорът Джош Дюамел
- В) Сватбени камбани бият за Фърги и актьора Джош Дюамел
- Г) Сватбени канбани бият за Фърги и актьорът Джош Дюамел
- Д) Сватбени камбани бият за Фърги и актьора Джош Дюамел

11) В следващото изречение е допусната една грешка. Посочете коя е погрешната позиция.

По време на неговото(А) миналогодишно(Б) обучение(В) в Англия ученикът – настоящият кандидат-студент(Г), е придобил квалификация, от която сега може да се облагодетелства(Д).

12) За пунктуацията в изречението

*Днес, ние не знаем откъде точно минават Аспаруховите конници, преди да пресекат Дунавската делта и да разпънат шатрите си в Онгъла, нито какви мисли са водили хана на юг, към земите на Византия, но през 680 г., слизайки от коня, Аспарух вече е знаел, че там неговите прабългари трябва най-сетне да пуснат корен.*

е вярно твърдението:

- А) Погрешно е поставена запетая след обстоятелственото пояснение *Днес*.
- Б) Запетаята пред израза *нито какви мисли са го водили на юг* е излишна, защото нямаме двоен съюз „нито – нито“.
- В) Изречението е правилно пунктуационно оформено.
- Г) Запетаята след израза *слизайки от коня* е излишна, защото обособената част не завършва с думата *кон*.
- Д) Запетаята след израза *през 680 г.* е излишна, защото целият израз *през 680 г. слизайки от коня* е обособена част.

13) Ако кажат на някого, че е „дървен философ“, всъщност му казват, че:

- А) многозначително мълчи
- Б) много обича да разговаря
- В) лесно се заговаря с друго
- Г) говори, без да казва нищо
- Д) много обича да размишлява

14) В кой ред има правописна грешка?

- А) Трябва да Ви съобща нещо неприятно – страдате от асма.
- Б) Не съм срещала по-завистлив човек от него.
- В) Уплашен от силния гръм, той несъзнателно направи кръстния знак.
- Г) Неговата идея за решаване на проблема е доста опасна.
- Д) Това понятие е много неуместно за случая.

15) Посочете в кое изречение има пунктуационна грешка.

- А) Първият "човек птица" е французинът Жан Пилатр дьо Розие, който през 1783 г. полетява с балон от платно и пергамент, конструиран от братята Жозеф и Жак Монголфие.
- Б) Няколко седмици след първия опит Розие и маркиз Д'Арланд полетели над Париж в по-голям балон.
- В) Полетите с балон не са контролирани, тъй като зависят единствено от посоката на вятъра.
- Г) Желаете да полетят, смелчащи връзвали на раменете си крила и скачали от високи скали.
- Д) Двама американци – братята Уилбър и Орвил Райт били потресени от гибелта на първия самолет "Лилиентал".

16) В кой ред има погрешно използвана дума?

- А) Който не работи, не трябва да яде.
- Б) Петрова не иска да работи с никого.
- В) На никой не разчитам.
- Г) Никого да не видя вече!
- Д) Кого да попитам, не зная.

17) В кой ред има грешка при употребата на пунктуационни или графични знакове?

- А) Основният доклад на конференцията беше изнесен от проф. Киров.
- Б) Името на инж. Хлебаров се свързва с много научни открития.
- В) Писта от 1500 м беше разрушена след наводненията.
- Г) Митничарите откриха 10 кг кокаин.
- Д) От 01.04.2000 г влизат в сила новите цени на бензина.

18) В кой ред има правописна грешка?

- А) Пред нас се открива блестяща перспектива.
- Б) Сградата представлява абсолютно правилен паралелепипед.
- В) За най-добрите във фирмата има вътрешни превилегии.
- Г) Тази година постигнахме добър пласмент.
- Д) Детето преживява тежък пубертет.

19) В кое изречение има погрешно написана дума?

- А) Купих си узряли домати.
- Б) Фасулът беше уврял добре.
- В) Мъката вече е преживяна.
- Г) Песента му е изпята.
- Д) Всички понасяли заедно трудностите.

20) В следващия текст е допусната една грешка. Посочете коя е погрешната позиция.

Витус Беринг е мореплавателя(А) с най-много заслуги за проучване на земите на североизток(Б) от Русия. През 1728 г. при една от своите експедиции(В) той открива, че има 90-километрова(Г) водна ивица между Азия и Америка, наречена в негова чест Берингов(Д) проход.

## МОДУЛ 2 “МАТЕМАТИКА – ОСНОВИ”

1) Ако  $\frac{a}{b} = -\frac{1}{3}$ , да се намери стойността на израза  $\frac{ab^2}{a^3 + b^3}$ .

А)  $-\frac{9}{26}$

Б)  $-\frac{4}{3}$

В)  $\frac{13}{26}$

Г)  $\frac{6}{5}$

Д)  $-\frac{5}{26}$

2) 15% от кое число  $x$  е равно на 99?

А) 33

Б) 66

В) 990

Г) 660

Д) 330

3) Изразът  $5^{\frac{\log_3 48 - 1}{\log_3 10 - \log_3 2}}$  е равен на:

А) 18

Б) 16

В) 27

Г) 5

Д) 24

4) Коя от изброените по-долу е стойността на израза  $\left(a^9 b^6 \sqrt{a^2 b^8 c^{10}}\right)^{\frac{1}{5}}$ , ако  $a \geq 0$ ,  $c \geq 0$ ?

А)  $a^2 b^2 c$

Б)  $a^3 b \sqrt[5]{c^8}$

В)  $a^3 b^4 \sqrt{c}$

Г)  $a^3 b^4 c^2$

Д)  $a^2 b^3 c^2$

5) Да се намери четвъртият член  $a_4$  на аритметична прогресия, за която първият член  $a_1 = 2$ ,

а разликата  $d = -\frac{1}{3}$ .

А)  $a_4 = 1$

Б)  $a_4 = -1$

В)  $a_4 = -\frac{7}{3}$

Г)  $a_4 = -2$

Д)  $a_4 = -\frac{1}{4}$

6) Решението на системата 
$$\begin{cases} -\frac{1}{2}x + \frac{5}{2}y = 1 \\ 7x + y = 4 \end{cases}$$
 е:

А)  $x = 3, y = 1$

Б)  $x = -7, y = -1$

В)  $x = \frac{1}{2}, y = \frac{1}{2}$

Г) Системата няма решение

Д) Системата има безбройно много решения

7) Кои са решенията на уравнението  $\frac{2x^2 - 6x + 4}{2x - 4} = 0$ ?

А) Само  $x = 2$

Б) Само  $x = 1$

В)  $x = 1$  и  $x = 2$

Г) Само  $x = 0$

Д)  $x = 2$  и  $x = -1$

8) За кои стойности на реалния параметър  $a$  уравнението  $a^2x^2 + 2x - 1 = 0$  няма реални корени?

А) Само за  $a = 1$

Б) За  $a = \pm 1$

В)  $a \in (-1, 1)$

Г)  $a \in (-\infty, 1) \cup (1, +\infty)$

Д) Няма такива стойности на  $a$

9) Кои са решенията на уравнението  $\sqrt{3x + 4} = x$ ?

А) 4 и -1

Б) Само 4

В) Само -1

Г) 4 и 1

Д) Уравнението няма решение

10) Коя е стойността на  $\sin 585^\circ$ ?

А)  $\frac{\sqrt{3}}{2}$

Б)  $\frac{1}{2}$

В)  $\frac{\sqrt{2}}{2}$

Г)  $-\frac{\sqrt{2}}{2}$

Д) -1

11) Ако  $\operatorname{tg} \alpha = -1$ , то  $\frac{\sin^2 \alpha - \cos^2 \alpha}{2 \sin \alpha \cdot \cos \alpha}$  е равно на:

А) -1

Б) 1

В) 2

Г) 0

Д)  $\frac{1}{2}$

12) Решенията на уравнението  $3 \sin^2 x = \cos^2 x$  в интервала  $[-\pi, \pi]$  са:

- А) Само  $x = \frac{\pi}{3}$
- Б) Само  $x = \frac{\pi}{2}$
- В) Само  $x = \pm \frac{\pi}{6}$
- Г) Само  $x = \pm \frac{5\pi}{6}$
- Д)  $x = \pm \frac{\pi}{6}$  и  $x = \pm \frac{5\pi}{6}$

13) Дефиниционното множество на функцията  $y = \frac{\lg x}{\sqrt{x^2 - 4}}$  е:

- А)  $x \in (2, +\infty)$
- Б)  $x \in (-2, 2)$
- В)  $x \in (-\infty, 0] \cup [2, +\infty)$
- Г)  $x \in (-\infty, -2] \cup [2, +\infty)$
- Д)  $x \in (-\infty, -2) \cup (2, +\infty)$

14) Намерете границата  $\lim_{x \rightarrow 0} \frac{x}{\sin x}$ .

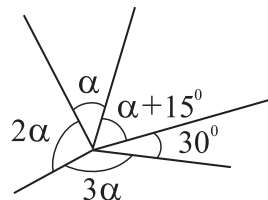
- А) 1
- Б) 0
- В)  $\frac{1}{3}$
- Г) 3
- Д) -1

15) Дадена е функцията  $y = \operatorname{tg} 2x - 1$ . Намерете  $y' \left( \frac{\pi}{2} \right)$ .

- А) -1
- Б) -2
- В) 0
- Г) 1
- Д) 2

16) Коя е градусната мярка на най-големия от ъглите, изобразени на фигурата?

- А)  $120^\circ$
- Б)  $125^\circ$
- В)  $130^\circ$
- Г)  $135^\circ$
- Д)  $140^\circ$



17) Даден е правоъгълен триъгълник с дължина на хипотенузата 10. Намерете сумата от квадратите на медианите му.

- А) Не може да се определи
- Б) 125
- В) 175
- Г) 100
- Д) 150



18) Да се намери радиусът на описаната около  $\triangle ABC$  окръжност, ако е дадено, че  $BC = 16$  и  $\angle BAC = 45^\circ$ .

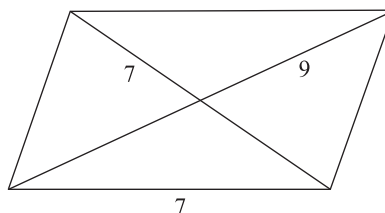
- А) 10
- Б)  $8\sqrt{2}$
- В)  $6\sqrt{3}$
- Г) 12
- Д)  $5\sqrt{2}$

19) Колко пъти ще се увеличи лицето на кръг, ако диаметърът му се увеличи 3 пъти?

- А) 6 пъти
- Б) 12 пъти
- В) 36 пъти
- Г) 9 пъти
- Д) 16 пъти

20) Диагоналите на успоредник са с дължини 7 и 9, а една от страните му е с дължина 7. Намерете дължината на другата страна.

- А)  $2\sqrt{2}$
- Б) 5
- В) 4
- Г) 6
- Д)  $3\sqrt{2}$



### МОДУЛ 3 “ИСТОРИЯ НА БЪЛГАРИЯ”

- 1) Стабилизацията на българската държава, след кризата около средата на VIII век, се осъществява от :
- А) хановете Токту и Паган;
  - Б) хановете Маламир и Пресиян;
  - В) хановете Телериг и Кардам ;
  - Г) хановете Телец и Сабин;
  - Д) хановете Севар и Винех.
- 2) Римските писатели в съчиненията си наричат славяните:
- А) венеди;
  - Б) славини;
  - В) анти;
  - Г) анти, венеди и славини;
  - Д) ринхини и абодрити.
- 3) Защо цар Симеон подновява военните действия срещу Византия през 914 г.?
- А) поради икономическата политика на българската държава;
  - Б) заради възстановяването на езичеството в България;
  - В) заради арабските нашествия към Византия;
  - Г) поради нахлуването на узи и печенеги в България;
  - Д) поради отхвърлянето от византийска страна на споразумението за българо-византийски брачен съюз и удостояването на Симеон с титлата цар.
- 4) По време на Първата българска държава практиката да се свикват народни събори:
- А) се появява след приемането на християнството;
  - Б) е заимствана от политическия живот на Византия;
  - В) идва от традициите на славяните и прабългарите до образуване на Първата българска държава на Балканите;
  - Г) е пренесена от Киевска Русия;
  - Д) възниква веднага след създаването на българската държава на Балканите, върху основата на дотогавашната прабългарска традиция.
- 5) Кой е наследникът на цар Самуил?
- А) брат му Иван Владислав;
  - Б) боляринът Ивац;
  - В) синът му Арон;
  - Г) цар Роман;
  - Д) синът му Гаврил Радомир.
- 6) През първата половина на XIII в. България е управлявана от:
- А) цар Калоян, цар Борил и цар Иван Асен II;
  - Б) цар Калоян, цар Иван Асен II и цар Георги Тертер I;
  - В) цар Гавраил Радомир, цар Асен и цар Петър;
  - Г) цар Иван Асен II и цар Георги Тертер I;
  - Д) цар Георги Тертер I и цар Михаил Шишман.
- 7) През XIII- XIV век обучението на децата и младежите се осъществява в следните училища:
- А) манастирски, общински и църковни;
  - Б) църковни и общински;
  - В) светски и църковни;
  - Г) прицърковни и манастирски;
  - Д) килийни (църковни и манастирски) и общински (светски).

- 8) Какви християнски храмове се строят по българските земи през XV – XVII век?
- А) високи кръстокуполни църкви, за да повдигат духът на българите;
  - Б) малки, ниски и вкопани в земята еднокорабни църкви;
  - В) големи църкви, за да побират богомолците от всички околни селища, където те са разрушени;
  - Г) строят се предимно храмове, вкопани в скалите, поради многото отшелници и да са скрити за турците;
  - Д) строят се само манастирски храмове.
- 9) Част от възрожденската епоха са: (посочете грешния отговор):
- А) движението за новобългарска просвета;
  - Б) навлизането на капиталистическите отношения по българските земи;
  - В) борбите за възстановяване на българската държава;
  - Г) борбите за църковно-национална независимост;
  - Д) борбите за национално обединение на българите.
- 10) През възрожденската епоха от българските земи се изнасят главно:
- А) стоки на занаятчийското производство;
  - Б) изделия на зараждащата се фабрична промишленост;
  - В) работна ръка;
  - Г) суровини за строителството и корабостроенето;
  - Д) суровини от растителен и животински произход.
- 11) Кога живеят и каква е дейността на поп Пейо и Матей Граматик?
- А) Български книжовници от XV в. Пишат жития, чрез които дават сведения за жестокостите на турците при определяне мястото на българите в структурата на Османската империя;
  - Б) Български книжовници от XVI в. Поп Пейо написва житие и служба за златаря Георги, който отказва да се помохамеданчи, и е изгорен на клада. Следовник на поп Пейо е Матей Граматик. Той пише житие на св. Никола Нови, убит от турците;
  - В) Поп Пейо и Матей Граматик живеят през първата половина на XVIII в. Те са монаси в Зографския манастир. Занимават се с книжовна дейност като се стремят да създават произведения близки и достъпни за българите християни;
  - Г) Живеят през първата половина на XIX в. С книжовната си дейност се борят срещу гръцкото духовно владичество над българите;
  - Д) Български книжовници от XVII в. Поп Пейо пише житие на св. Никола Нови, убит от турците. Негов следовник е Матей Граматик. Той написва житие и служба за златаря Георги, който отказва да се помохамеданчи и е изгорен жив от турците.
- 12) Кой и кога издава вестник “Свобода” ?
- А) Тодор Икономов през 1874 г.;
  - Б) Добродетелната дружина през 1866 г.;
  - В) Иван Богоров през 1861 г.;
  - Г) Любен Каравелов през 1869 г.;
  - Д) Петко Р.Славейков през 1870 г.
- 13) Кога и с чии средства е формирана четата на Хаджи Димитър и Стефан Караджа?
- А) през 1868 г. със средства предоставени от Българското общество;
  - Б) през 1869 г. със средства изпратени от Русия;
  - В) през 1868 г. със средства и по инициатива на Сърбия;
  - Г) през 1867 г. със средства предоставени от Добродетелната дружина;
  - Д) през 1870 г. със средства изпратени от Одеското българско настоятелство.

- 14) В кои от следните произведения са изразени идейните принципи на Христо Ботев?
- А) “Предвестник горскогo пътника” и “Горски пътник”;
  - Б) в. “Дума на българските емигранти”, “Смешен плач” и “Народът, вчера, днес и утре”;
  - В) “Мои братя” и “Хаджи Димитър”;
  - Г) “Борба” и “Криворазбраната цивилизация”;
  - Д) “На прощаване” и “Българи от старо време”.
- 15) Кога започват предварителните заседания на Цариградската конференция (1876 г.) и какви са нейните задачи ?
- А) На 24 октомври. Трябвало да се произнесе по съдбата на българския народ и статута на Босна и Херцеговина;
  - Б) На 11 ноември. Трябвало да се произнесе по съдбата на българския народ и да възстанови мира между Турция , от една страна и Босна и Херцеговина от друга;
  - В) На 24 октомври. Трябвало да наложи провеждането на реформи във вилаетите на Европейска Турция;
  - Г) На 11 декември. Трябвало да се произнесе по съдбата на българския народ, за Босна и Херцеговина и за възстановяването на мира между последните и Турция;
  - Д) През септември, вероятно втората седмица. Задачата е да се подготви проект за реформи в цяла Турция и избегне войната с Русия.
- 16) През декември 1876 г. на предварителните заседания на Цариградската посланическа конференция е взето решение:
- А) да се даде автономия на българите в почти същите граници очертани от Фермана за независимата българска църква;
  - Б) да се даде автономия на България и независимост на Сърбия, Черна гора и Румъния;
  - В) да се формират княжество България и Източна Румелия;
  - Г) да се запази без никакви промени териториалната цялост на Османската империя;
  - Д) да не се създава голяма славянска държава на Балканския полуостров.
- 17) Кога е формиран тайният централен български комитет (ТЦБК) и кой е неговият първи председател?
- А) създаден е през 1867 г. с председател Иван Касабов;
  - Б) формиран е през 1862 г. с председател Пандели Кисимов;
  - В) формиран е през 1866 г. с председател Димитър Диамандиев;
  - Г) формиран е през 1865 г. с председател Г. С. Раковски;
  - Д) формиран е през 1866 г. с председател Киряк Цанков.
- 18) В кое правителство е министър на просветата Константин Иречек?
- А) в първото правителство на непримиримите либерали-каравелисти (1884-1886 г.);
  - Б) в първото правителство на либералите, начело с Драган Цанков;
  - В) в първото правителство на Режима на пълномощията;
  - Г) в първото правителство на руските генерали Леонид Соболев и Ал. Каулбарс;
  - Д) в първото българско правителство начело с Тодор Бурмов.
- 19) Кои са причините за извършването на държавния преврат на 27 април 1881 г. и установяване на “режим на пълномощията”?
- А) убийството на руския цар Александър II през пролетта на 1881 г. от революционни елементи;
  - Б) слабостта на българските политически партии;
  - В) подкрепата на Германия и Австро-Унгария за създаване на силна княжеска власт;
  - Г) убеждението на княз Ал. Батенберг, че Търновската конституция е неприложима в българските условия и подкрепата, която получава от руския цар Александър III;
  - Д) липса на държавен опит у княз Ал. Батенберг.


- 20) Кога и къде е основана първата частна банка в Княжество България?
- А) Първата частна банка е основана в гр. Русе – “Гирдап”, 1881 г.;
  - Б) Първата частна банка е основана в гр. Русе – “Търговска банка”, 1895 г.;
  - В) Първата частна банка е основана в гр. София от Ат. Буров, 1894 г.;
  - Г) Първата частна банка е основана в гр. Русе – “Гирдап”, 1888 г.;
  - Д) Първата частна банка е основана в гр. София през 1890 г., след успешно натрупване на капитали от търговското дружество, при управлението на Ст. Стамболов.
- 21) Кога се въвежда национална монетна единица в Княжество България?
- А) С Указ на княз Ал. Дондуков – Корсаков през 1879 г. се въвежда в действие, наред с руската рубла и българския златен лев като национална монетна единица;
  - Б) Със закон от 1880 г. се въвежда българският златен лев като национална монетна единица;
  - В) Със закон от 1890 г., при управлението на Ст. Стамболов, се въвежда национална монетна единица – българският златен лев;
  - Г) С Указ на първия български княз Александър I Батенберг през 1881 г. се въвежда национална монетна единица – българският златен лев;
  - Д) До края на XIX век в Княжество България циркулират различни монетни единици (руски, турски, гръцки, румънски, австрийски и др.). В началото на XX век (1904 г.) народнолибералите приемат Закон в XIII ОНС, с който въвежда официално българският златен лев като национална монетна единица. Със същия Закон се прекратява действието на чуждите монетни единици по българския пазар.
- 22) Кой е основният отрасъл на българското стопанство при управлението на Ст. Стамболов (1887-1894 г.)?
- А) селското стопанство;
  - Б) текстилната промишленост;
  - В) хранително-вкусовата промишленост;
  - Г) едрото търговско скотовъдство;
  - Д) техническите култури.
- 23) Защо Петко Каравелов остава да лежи в затвора и след падането на Ст. Стамболов от власт?
- А) защото не е изтекъл срокът на присъдата му;
  - Б) защото княз Фердинанд удължава присъдата му;
  - В) защото не признава Фердинанд за законен български княз, поради което е изключен от дадената частична амнистия на политическите затворници през август 1894 г.;
  - Г) защото е опасен противник за К. Стоилов в предстоящите парламентарни избори на 11 септември 1894 г.;
  - Д) защото се опитва да организира от затвора преврат за сваляне на правителството, образувано с дадения му мандат от Фердинанд.
- 24) Народно-либералната (стамболовистка) партия е образувана през:
- А) 1881 - 1883 г.;
  - Б) 1886 - 1887 г.;
  - В) 1889 - 1890 г.;
  - Г) 1894 – 1895 г.;
  - Д) 1899 – 1900 г.
- 25) Печатен орган на Народната партия е:
- А) в. "Отечество";
  - Б) в. "Търновска конституция";
  - В) в. "Свободно слово";
  - Г) в. "Народни права";
  - Д) в. "Мир".

- 26) Кой е най-значимият промишлен отрасъл в България в началото на XX век?
- А) текстилната промишленост;
  - Б) електродобивната промишленост;
  - В) металодобивната промишленост;
  - Г) въгледобивната промишленост;
  - Д) хранително-преработвателна индустрия.
- 27) Първата хидроцентрала в България е построена в началото на XX в. от:
- А) английско-българско дружество;
  - Б) белгийско концесионното предприятие;
  - В) немско акционерно дружество;
  - Г) австро-унгарски електрически концерн;
  - Д) руско търговско дружество.
- 28) Кога България е суверенно призната държава от Турция и Великите сили ?
- А) България официално е призната за суверенна държава от Великите сили едва през февруари 1947 г. на Парижката мирна конференция;
  - Б) На 22 септември 1908 г., веднага след обявяването на независимостта от Фердинанд Великите сили и Турция признават България за суверенна държава;
  - В) След Съединението, през април 1886 г. с Топханенския акт България е призната за суверенна държава от Турция и Великите сили;
  - Г) С подписването на Лондонския договор през май 1912 г., България официално е призната за суверенна държава от всички балкански държави и Великите сили;
  - Д) През април 1909 г., след финансови комбинации между Русия, Турция и България, Високата порта признава официално независимостта на България. Веднага последва и признаването ѝ от Великите сили.
- 29) В кои области Фердинанд установява най-силен контрол?
- А) формирането кабинетите, ръководството на армията, определяне насоките на външната политика;
  - Б) формирането на кабинетите, селскостопанската политика, индустриалното законодателство;
  - В) формирането на кабинетите, културната политика, социалните дейности;
  - Г) формирането на кабинетите, просветната политика, транспортната политика;
  - Д) формирането на кабинетите, индустриалната политика, областта на финансите.
- 30) Кога се създава Върховния македонски комитет (ВМК) и кой е неговия първи лидер?
- А) През пролетта на 1895 г. Първи лидер е Гоце Делчев;
  - Б) През есента на 1894 г. Първи лидер е Христо Татарчев;
  - В) През пролетта на 1895 г. Първи лидер е Трайко Китанчев;
  - Г) През 1893 г. Първи лидер е Борис Сарафов;
  - Д) През 1897 г. Първи лидер е генерал Иван Цончев.
- 31) Конгресът на Битолски революционен окръг преди Илинденско-Преображенското въстание:
- А) се свиква на 20 август 1903 г. край с. Пирин и взема решение да не се провеждат въстанически действия в Серски революционен окръг;
  - Б) се провежда от 28 юни до 1 юли 1903 г. в местността Петрова нива и взема решение за тактиката на въстанието в Одрински революционен окръг;
  - В) е свикан на 17 април 1903 г. в с. Смилево и на него е решено да се вдигне масово въстание. Избран е Главен щаб за неговата подготовка и ръководство;
  - Г) се провежда от 2 до 4 януари 1903 г. в Солун и взема решение за създаване на Крушевската република;
  - Д) е свикан на 21 април 1903 г. в с. Баница и избира заместник на загиналия Гоце Делчев.

- 32) Едно от големите постижения в Одрински революционен окръг е:
- А) превземането на Одрин и образуването на Одринската република;
  - Б) избухването на въстанието във всички села на революционния окръг ;
  - В) образуването на Странджанската република, където в създадените свободни общини нивите се жънат не от собствениците им, а от цялото население;
  - Г) задържане настъплението на 100 000–та турска армия в продължение на 10 дни;
  - Д) превземането на голяма част от Чаталджанската позиция и образуването на Тракийската република.
- 33) Сраженията на българската армия край Дойранското езеро през Първата световна война са ръководени от:
- А) ген. Ив. Фичев през есента на 1917 г.;
  - Б) ген. Р. Димитриев през януари 1913 г.;
  - В) ген. Ал. Ганчев през януари 1916 г.;
  - Г) ген. Г. Вазов през ноември 1915 г.;
  - Д) ген. Вл. Вазов през лятото на 1916 г.
- 34) Кога, от кого и къде е открита Народната библиотека?
- А) на 15 януари 1880 г. от българското правителство в София и на 20 март 1881 г., по инициатива на Й. Груев в Пловдив, като областна библиотека;
  - Б) на 15 септември 1878 г. от Временното руско управление в Търново;
  - В) на 15 януари 1879 г. от Временното руско управление в София и през 1882 г. по инициатива на Й. Груев в Пловдив, като областна библиотека;
  - Г) на 15 януари 1879 г., по инициатива на няколко народни представители начело с П. Р. Славейков в Търново, преди откриване на Учредителното събрание;
  - Д) след Съединението на 24 декември 1885 г. по инициатива на П. Каравеловото правителство в София, след обединение на двете градски библиотеки (Софийската и Пловдивската).
- 35) Кога завършва строителството на храм-паметника “Александър Невски” в София?
- А) на 20 октомври 1908 г., след обявяване на българската независимост;
  - Б) през 1902 г., във връзка с тържествата по случай Освобождението на България;
  - В) през 1907 г., по случай 30 години от започването на Освободителната война ;
  - Г) на 20 април 1909 г., след признаване на българската независимост;
  - Д) през 1912 г.
- 36) Коя от посочените партии в навечерието на Първата световна война отстоява твърди антивоенни позиции?
- А) БЗНС;
  - Б) Народно - либералната партия;
  - В) Либералната (радославистка) партия;
  - Г) Народната партия;
  - Д) Прогресивно - либералната партия.
- 37) След подписването на Солунското примирие е образуван нов кабинет на 17 октомври 1918 г. начело с:
- А) Теодор Теодоров;
  - Б) Александър Стамболийски;
  - В) д-р Васил Радославов;
  - Г) Александър Малинов;
  - Д) Иван Евстр. Гешов.

- 38) Кога и как пада от власт самостоятелното правителство на БЗНС ?**
- А) на 19 август 1919 г., чрез революция организирана от левите политически сили в България;
  - Б) на 19 май 1922 г., чрез спечелване на парламентарните избори от буржоазните политически сили от коалицията Конституционен блок;
  - В) на 9 юни 1923 г., чрез преврат организиран от Народния съговор и Военния съюз;
  - Г) на 14 юни 1923 г., след вътрешно партиен преврат организиран от десните земеделци в организацията, които са в съюз с Демократическия съговор;
  - Д) на 9 септември 1923 г., чрез въоръжено въстание организирано от БКП (т.с.).
- 39) Конференцията на съглашенските страни в Сан Ремо през април 1920 г. решава:**
- А) България да получи излаз на Егея;
  - Б) Южна Добруджа да се върне на България;
  - В) цяла Тракия до линията на Чаталджа да се даде на Гърция;
  - Г) да се намалят репарациите, плащани от България по Ньойския договор;
  - Д) България да получи компенсации от Румъния за отнетите ѝ територии.
- 40) Кога България е приета в обществото на народите?**
- А) 10 февруари 1918 г.;
  - Б) 16 декември 1920 г.;
  - В) 10 януари 1929 г.;
  - Г) 10 март 1933 г.;
  - Д) 5 септември 1925 г.





ЕДИНЕН ПРИЕМЕН ИЗПИТ  
КАРТА ЗА ОТГОВОРИ

ИСТОРИЯ НА БЪЛГАРИЯ - 28.03.09

запълва се с тънкописец  
цялото кръгче на отговора

обща част / модул 1 - български език и езикова култура	1	<input type="radio"/> А	<input checked="" type="radio"/> В	<input type="radio"/> В	<input type="radio"/> Г	<input type="radio"/> Д
	2	<input checked="" type="radio"/> А	<input type="radio"/> Б	<input type="radio"/> В	<input type="radio"/> Г	<input type="radio"/> Д
	3	<input type="radio"/> А	<input type="radio"/> Б	<input type="radio"/> В	<input checked="" type="radio"/> Г	<input type="radio"/> Д
	4	<input checked="" type="radio"/> А	<input type="radio"/> Б	<input type="radio"/> В	<input type="radio"/> Г	<input type="radio"/> Д
	5	<input type="radio"/> А	<input type="radio"/> Б	<input type="radio"/> В	<input checked="" type="radio"/> Г	<input type="radio"/> Д
	6	<input type="radio"/> А	<input checked="" type="radio"/> В	<input type="radio"/> В	<input type="radio"/> Г	<input type="radio"/> Д
	7	<input checked="" type="radio"/> А	<input type="radio"/> Б	<input type="radio"/> В	<input type="radio"/> Г	<input type="radio"/> Д
	8	<input type="radio"/> А	<input checked="" type="radio"/> В	<input type="radio"/> В	<input type="radio"/> Г	<input type="radio"/> Д
	9	<input type="radio"/> А	<input checked="" type="radio"/> В	<input type="radio"/> В	<input type="radio"/> Г	<input type="radio"/> Д
	10	<input type="radio"/> А	<input type="radio"/> Б	<input type="radio"/> В	<input type="radio"/> Г	<input checked="" type="radio"/> Д
	11	<input checked="" type="radio"/> А	<input type="radio"/> Б	<input type="radio"/> В	<input type="radio"/> Г	<input type="radio"/> Д
	12	<input checked="" type="radio"/> А	<input type="radio"/> Б	<input type="radio"/> В	<input type="radio"/> Г	<input type="radio"/> Д
	13	<input type="radio"/> А	<input type="radio"/> Б	<input type="radio"/> В	<input checked="" type="radio"/> Г	<input type="radio"/> Д
	14	<input checked="" type="radio"/> А	<input type="radio"/> Б	<input type="radio"/> В	<input type="radio"/> Г	<input type="radio"/> Д
	15	<input type="radio"/> А	<input type="radio"/> Б	<input type="radio"/> В	<input type="radio"/> Г	<input checked="" type="radio"/> Д
	16	<input type="radio"/> А	<input type="radio"/> Б	<input checked="" type="radio"/> В	<input type="radio"/> Г	<input type="radio"/> Д
	17	<input type="radio"/> А	<input type="radio"/> Б	<input type="radio"/> В	<input type="radio"/> Г	<input checked="" type="radio"/> Д
	18	<input type="radio"/> А	<input type="radio"/> Б	<input checked="" type="radio"/> В	<input type="radio"/> Г	<input type="radio"/> Д
	19	<input checked="" type="radio"/> А	<input type="radio"/> Б	<input type="radio"/> В	<input type="radio"/> Г	<input type="radio"/> Д
	20	<input checked="" type="radio"/> А	<input type="radio"/> Б	<input type="radio"/> В	<input type="radio"/> Г	<input type="radio"/> Д
обща част / модул 2 - математика основи	1	<input checked="" type="radio"/> А	<input type="radio"/> Б	<input type="radio"/> В	<input type="radio"/> Г	<input type="radio"/> Д
	2	<input type="radio"/> А	<input type="radio"/> Б	<input type="radio"/> В	<input checked="" type="radio"/> Г	<input type="radio"/> Д
	3	<input type="radio"/> А	<input checked="" type="radio"/> В	<input type="radio"/> В	<input type="radio"/> Г	<input type="radio"/> Д
	4	<input checked="" type="radio"/> А	<input type="radio"/> Б	<input type="radio"/> В	<input type="radio"/> Г	<input type="radio"/> Д
	5	<input checked="" type="radio"/> А	<input type="radio"/> Б	<input type="radio"/> В	<input type="radio"/> Г	<input type="radio"/> Д
	6	<input type="radio"/> А	<input type="radio"/> Б	<input checked="" type="radio"/> В	<input type="radio"/> Г	<input type="radio"/> Д
	7	<input type="radio"/> А	<input checked="" type="radio"/> В	<input type="radio"/> В	<input type="radio"/> Г	<input type="radio"/> Д
	8	<input type="radio"/> А	<input type="radio"/> Б	<input type="radio"/> В	<input type="radio"/> Г	<input checked="" type="radio"/> Д
	9	<input type="radio"/> А	<input checked="" type="radio"/> В	<input type="radio"/> В	<input type="radio"/> Г	<input type="radio"/> Д
	10	<input type="radio"/> А	<input type="radio"/> Б	<input type="radio"/> В	<input checked="" type="radio"/> Г	<input type="radio"/> Д
	11	<input type="radio"/> А	<input type="radio"/> Б	<input type="radio"/> В	<input checked="" type="radio"/> Г	<input type="radio"/> Д
	12	<input type="radio"/> А	<input type="radio"/> Б	<input type="radio"/> В	<input type="radio"/> Г	<input checked="" type="radio"/> Д
	13	<input checked="" type="radio"/> А	<input type="radio"/> Б	<input type="radio"/> В	<input type="radio"/> Г	<input type="radio"/> Д
	14	<input checked="" type="radio"/> А	<input type="radio"/> Б	<input type="radio"/> В	<input type="radio"/> Г	<input type="radio"/> Д
	15	<input type="radio"/> А	<input type="radio"/> Б	<input type="radio"/> В	<input type="radio"/> Г	<input checked="" type="radio"/> Д
	16	<input type="radio"/> А	<input type="radio"/> Б	<input type="radio"/> В	<input checked="" type="radio"/> Г	<input type="radio"/> Д
	17	<input type="radio"/> А	<input type="radio"/> Б	<input type="radio"/> В	<input type="radio"/> Г	<input checked="" type="radio"/> Д
	18	<input type="radio"/> А	<input checked="" type="radio"/> В	<input type="radio"/> В	<input type="radio"/> Г	<input type="radio"/> Д
	19	<input type="radio"/> А	<input type="radio"/> Б	<input type="radio"/> В	<input checked="" type="radio"/> Г	<input type="radio"/> Д
	20	<input type="radio"/> А	<input type="radio"/> Б	<input checked="" type="radio"/> В	<input type="radio"/> Г	<input type="radio"/> Д

специална част / модул 3	1	<input type="radio"/> А	<input type="radio"/> Б	<input checked="" type="radio"/> В	<input type="radio"/> Г	<input type="radio"/> Д
	2	<input checked="" type="radio"/> А	<input type="radio"/> Б	<input type="radio"/> В	<input type="radio"/> Г	<input type="radio"/> Д
	3	<input type="radio"/> А	<input type="radio"/> Б	<input type="radio"/> В	<input type="radio"/> Г	<input checked="" type="radio"/> Д
	4	<input type="radio"/> А	<input type="radio"/> Б	<input checked="" type="radio"/> В	<input type="radio"/> Г	<input type="radio"/> Д
	5	<input type="radio"/> А	<input type="radio"/> Б	<input type="radio"/> В	<input type="radio"/> Г	<input checked="" type="radio"/> Д
	6	<input checked="" type="radio"/> А	<input type="radio"/> Б	<input type="radio"/> В	<input type="radio"/> Г	<input type="radio"/> Д
	7	<input type="radio"/> А	<input type="radio"/> Б	<input type="radio"/> В	<input checked="" type="radio"/> Г	<input type="radio"/> Д
	8	<input type="radio"/> А	<input checked="" type="radio"/> В	<input type="radio"/> В	<input type="radio"/> Г	<input type="radio"/> Д
	9	<input type="radio"/> А	<input type="radio"/> Б	<input type="radio"/> В	<input type="radio"/> Г	<input checked="" type="radio"/> Д
	10	<input type="radio"/> А	<input type="radio"/> Б	<input type="radio"/> В	<input type="radio"/> Г	<input checked="" type="radio"/> Д
	11	<input type="radio"/> А	<input checked="" type="radio"/> В	<input type="radio"/> В	<input type="radio"/> Г	<input type="radio"/> Д
	12	<input type="radio"/> А	<input type="radio"/> Б	<input type="radio"/> В	<input checked="" type="radio"/> Г	<input type="radio"/> Д
	13	<input checked="" type="radio"/> А	<input type="radio"/> Б	<input type="radio"/> В	<input type="radio"/> Г	<input type="radio"/> Д
	14	<input type="radio"/> А	<input checked="" type="radio"/> В	<input type="radio"/> В	<input type="radio"/> Г	<input type="radio"/> Д
	15	<input type="radio"/> А	<input type="radio"/> Б	<input type="radio"/> В	<input checked="" type="radio"/> Г	<input type="radio"/> Д
	16	<input checked="" type="radio"/> А	<input type="radio"/> Б	<input type="radio"/> В	<input type="radio"/> Г	<input type="radio"/> Д
	17	<input type="radio"/> А	<input type="radio"/> Б	<input checked="" type="radio"/> В	<input type="radio"/> Г	<input type="radio"/> Д
	18	<input type="radio"/> А	<input type="radio"/> Б	<input checked="" type="radio"/> В	<input type="radio"/> Г	<input type="radio"/> Д
	19	<input type="radio"/> А	<input type="radio"/> Б	<input type="radio"/> В	<input checked="" type="radio"/> Г	<input type="radio"/> Д
	20	<input checked="" type="radio"/> А	<input type="radio"/> Б	<input type="radio"/> В	<input type="radio"/> Г	<input type="radio"/> Д
21	<input type="radio"/> А	<input checked="" type="radio"/> В	<input type="radio"/> В	<input type="radio"/> Г	<input type="radio"/> Д	
22	<input checked="" type="radio"/> А	<input type="radio"/> Б	<input type="radio"/> В	<input type="radio"/> Г	<input type="radio"/> Д	
23	<input type="radio"/> А	<input type="radio"/> Б	<input checked="" type="radio"/> В	<input type="radio"/> Г	<input type="radio"/> Д	
24	<input type="radio"/> А	<input type="radio"/> Б	<input checked="" type="radio"/> В	<input type="radio"/> Г	<input type="radio"/> Д	
25	<input type="radio"/> А	<input type="radio"/> Б	<input type="radio"/> В	<input type="radio"/> Г	<input checked="" type="radio"/> Д	
26	<input type="radio"/> А	<input type="radio"/> Б	<input type="radio"/> В	<input type="radio"/> Г	<input checked="" type="radio"/> Д	
27	<input type="radio"/> А	<input checked="" type="radio"/> В	<input type="radio"/> В	<input type="radio"/> Г	<input type="radio"/> Д	
28	<input type="radio"/> А	<input type="radio"/> Б	<input type="radio"/> В	<input type="radio"/> Г	<input checked="" type="radio"/> Д	
29	<input checked="" type="radio"/> А	<input type="radio"/> Б	<input type="radio"/> В	<input type="radio"/> Г	<input type="radio"/> Д	
30	<input type="radio"/> А	<input type="radio"/> Б	<input checked="" type="radio"/> В	<input type="radio"/> Г	<input type="radio"/> Д	
31	<input type="radio"/> А	<input type="radio"/> Б	<input checked="" type="radio"/> В	<input type="radio"/> Г	<input type="radio"/> Д	
32	<input type="radio"/> А	<input type="radio"/> Б	<input checked="" type="radio"/> В	<input type="radio"/> Г	<input type="radio"/> Д	
33	<input type="radio"/> А	<input type="radio"/> Б	<input type="radio"/> В	<input type="radio"/> Г	<input checked="" type="radio"/> Д	
34	<input type="radio"/> А	<input type="radio"/> Б	<input checked="" type="radio"/> В	<input type="radio"/> Г	<input type="radio"/> Д	
35	<input type="radio"/> А	<input type="radio"/> Б	<input type="radio"/> В	<input type="radio"/> Г	<input checked="" type="radio"/> Д	
36	<input checked="" type="radio"/> А	<input type="radio"/> Б	<input type="radio"/> В	<input type="radio"/> Г	<input type="radio"/> Д	
37	<input type="radio"/> А	<input type="radio"/> Б	<input type="radio"/> В	<input checked="" type="radio"/> Г	<input type="radio"/> Д	
38	<input type="radio"/> А	<input type="radio"/> Б	<input checked="" type="radio"/> В	<input type="radio"/> Г	<input type="radio"/> Д	
39	<input type="radio"/> А	<input type="radio"/> Б	<input checked="" type="radio"/> В	<input type="radio"/> Г	<input type="radio"/> Д	
40	<input type="radio"/> А	<input checked="" type="radio"/> Б	<input type="radio"/> В	<input type="radio"/> Г	<input type="radio"/> Д	